

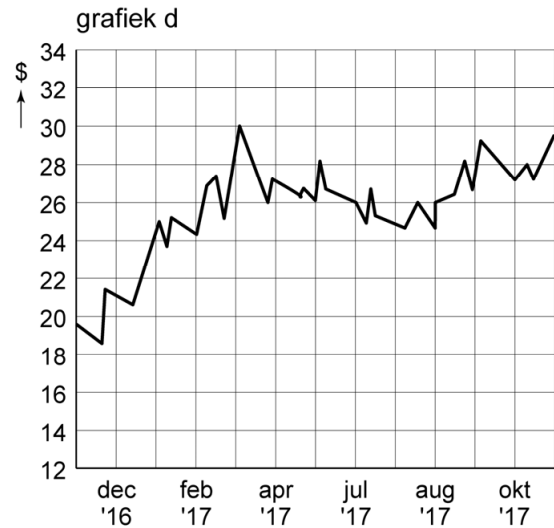
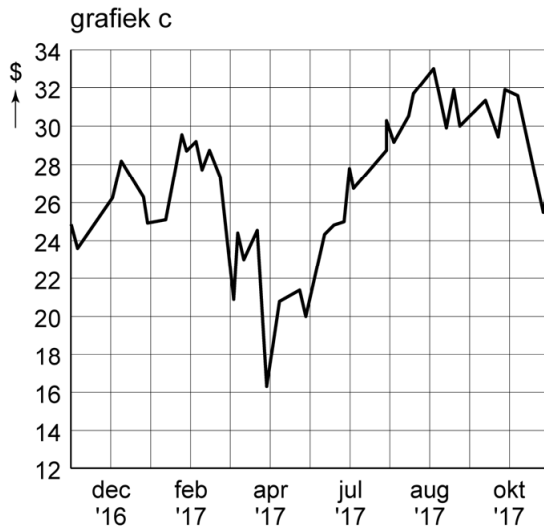
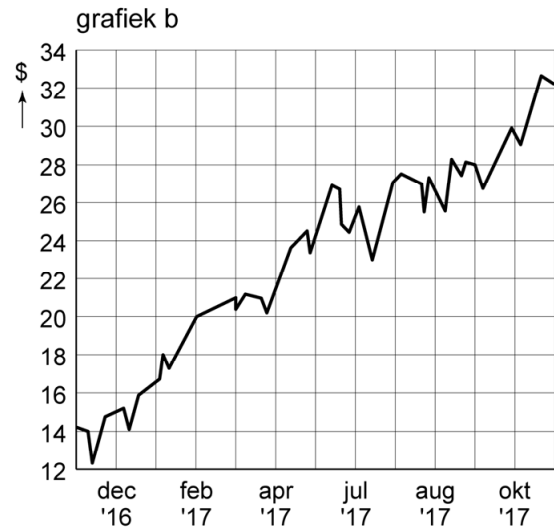
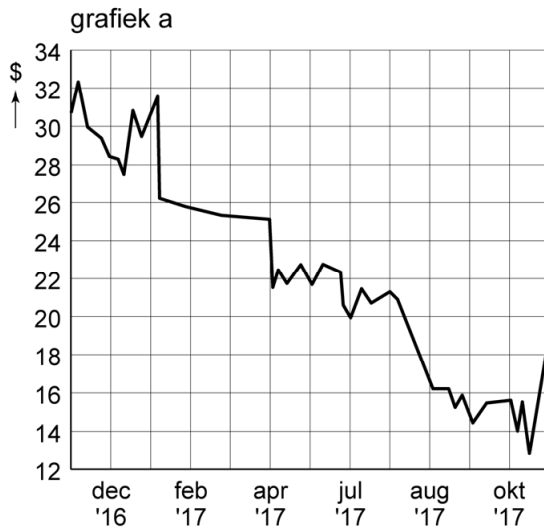
Monopolie op Monopoly?

Het miljardenbedrijf Hasbro, bekend van het spel Monopoly, wil in 2018 Mattel, fabrikant van onder meer Barbie, overnemen. De twee Amerikaanse bedrijven vormen na de overname nog geen monopolie, maar zijn samen wel het grootste speelgoedbedrijf ter wereld.



- 1p 1 Leg uit dat de prijzen van speelgoed kunnen stijgen door deze overname.
- 1p 2 Twintig jaar eerder al was er sprake van een fusie tussen Hasbro en Mattel. Recent heeft Hasbro een overnamebod uitgebracht op Mattel. Welk verschil bestaat er tussen een fusie en een overname?
- A Bij een fusie gaat het om grote bedrijven, bij een overname niet.
 - B Bij een fusie gaat het om kleine bedrijven, bij een overname niet.
 - C Bij een fusie is er geen overeenstemming over de samenwerking, bij een overname wel.
 - D Bij een fusie is er overeenstemming over de samenwerking, bij een overname niet altijd.
- 1p 3 De omzet van Hasbro was in 2017 met 7% gestegen tot € 1,8 miljard.
→ Bereken de omzet van Hasbro in 2016. Schrijf je berekening op.
- 1p 4 Zowel Hasbro als Mattel is een beursgenoteerd bedrijf. De aandelen zijn vrij verhandelbaar op de effectenbeurs. Welke Nederlandse ondernemingsvorm past bij de beschrijving van beide bedrijven?
- A besloten vennootschap
 - B eenmanszaak
 - C naamloze vennootschap
 - D stichting
 - E vennootschap onder firma
 - F vereniging

- 5 De Amerikaanse beurs reageerde in oktober 2017 positief op het nieuws van de mogelijke overname. De koers van Mattel steeg daarop met ruim 45%, na een langere periode van bijna alleen maar daling. Welke grafiek geeft het koersverloop van Mattel juist weer?



- A grafiek a
 B grafiek b
 C grafiek c
 D grafiek d